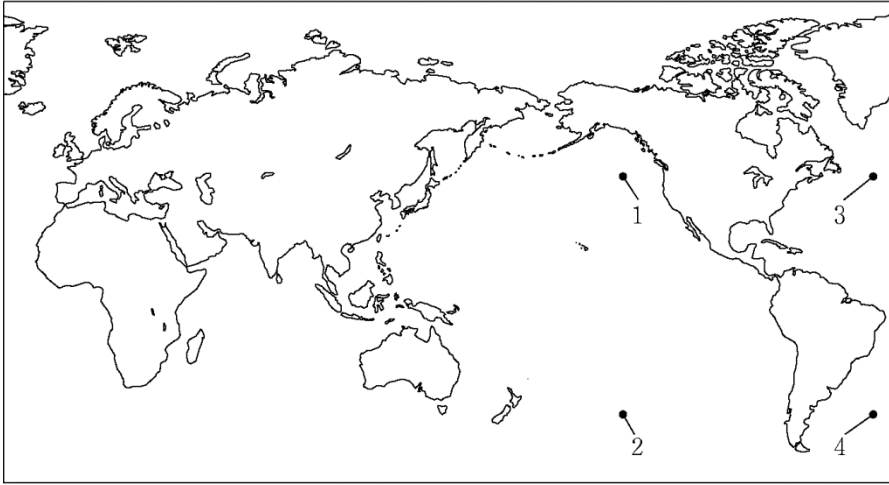


# 1 [1] 世界地理

- (1) 次の略地図において、神奈川県と、地球の中心に対してほぼ正反対になる地点として最も適する地点を、略地図中の1~4の中から一つ選び、その番号を書きなさい。

略地図



- (2) インドの宗教と食生活について説明した次の [ ] 中の [ A ] , [ B ] にあてはまるものの組み合わせとして最も適するものを、あとの1~4の中から一つ選び、その番号を書きなさい。

インドでは、国民の約80%が [ A ] 教を信仰し、信者がガンジス川で沐浴する光景は有名である。この宗教では、聖なる動物である [ B ] の肉は食べない。

1. A : イスラム B : 牛      2. A : イスラム B : 豚  
3. A : ヒンドゥー B : 牛      4. A : ヒンドゥー B : 豚

- (3) 日本の経済水域について説明した次の [ ] 中の [ A ] , [ B ] にあてはまるものの組み合わせとして最も適するものを、あとの1~4の中から一つ選び、その番号を書きなさい。

日本では、海岸線から [ A ] 海里までの範囲のうち領海を除く部分を経済水域としている。この経済水域の縮小を防ぐため、日本の南端に位置する [ B ] では、波の浸食から島を守る工事が行われた。

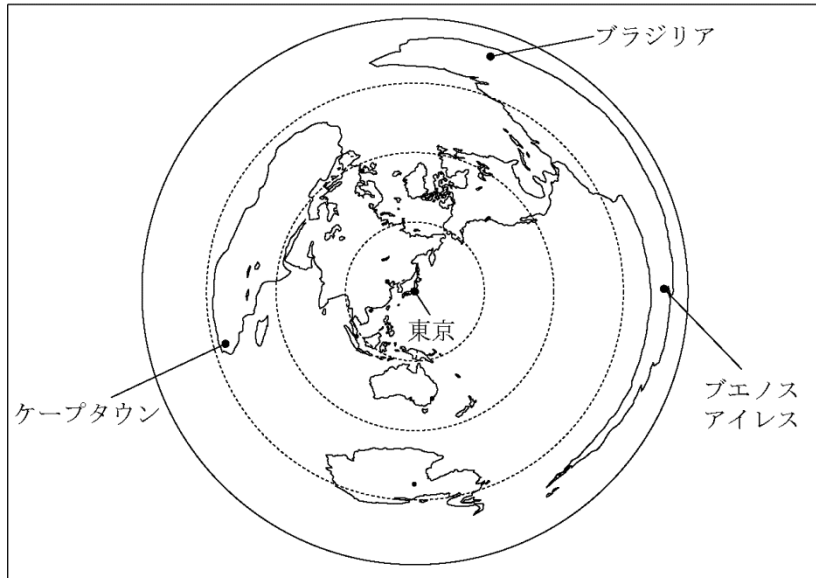
1. A : 12 B : 南鳥島      2. A : 12 B : 沖ノ鳥島  
3. A : 200 B : 南鳥島      4. A : 200 B : 沖ノ鳥島

- (4) 神奈川県の中学校に通うKさんたちのクラスは、日本時間の1月11日午前9時に、カナダのバンクーバーにある学校に電子メールを送信した。バンクーバーの学校がこの電子メールを受信したときの現地の日時として最も適するものを、次の1~6の中から一つ選び、その番号を書きなさい。ただし、バンクーバーの標準時は西経120度を基準とする。また、送信にかかる時間は考えないものとする。

1. 1月10日午前4時      2. 1月10日午後4時  
3. 1月10日午後10時      4. 1月11日午前4時  
5. 1月11日午後4時      6. 1月11日午後10時

(5) 次の略地図は、東京からの距離と方位が正しくあらわされているものである。この略地図について説明した  中の a, b について、正しいか誤っているかの組み合わせとして最も適するものを、あとの 1~4 の中から一つ選び、その番号を書きなさい。

略地図



※東京を中心として、半径5000kmごとに円を記している。

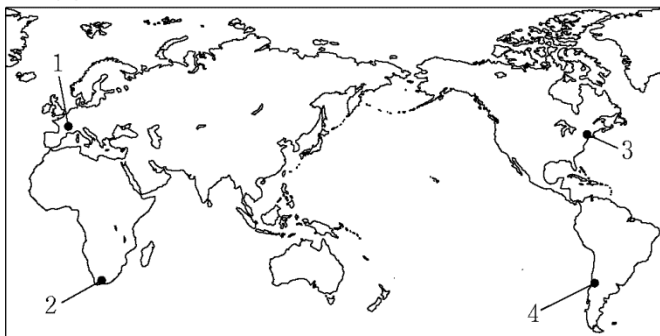
- a. 東京からケープタウンまでの距離は、東京からブラジリアまでの距離より長い。  
 b. ブエノスアイレスは、東京からはほぼ東の方向に位置する。

1. a: 正しい      b: 正しい      2. a: 正しい      b: 誤っている  
 3. a: 誤っている      b: 正しい      4. a: 誤っている      b: 誤っている

(6) 次の  中の文は、Kさんが世界各地に販売店をもつ、ある衣料関連の企業について調べてまとめたものである。 中に書かれた販売店がある都市として最も適するものを、あとの略地図中の 1~4 の中から一つ選び、その番号を書きなさい。

- 日本と時差があるため、この販売店が開店する時間は現地時間では午前 10 時だが、日本時間では同じ日の午後 11 時となっていた。  
 ○ホームページを調べると、この販売店で 7 月に販売している衣服が、冬物中心であった。

略地図



(7) 次の  中の文にあてはまる国として最も適するものを、あとの略地図中の 1~4 の中から一つ選び、その番号を書きなさい。

この国では、オアシスで、おもに小麦やなつめやしなどの作物が栽培されるとともに、その周辺では、らくだや羊などの放牧が行われてきた。

略地図



(8) 日本が石油を多く輸入している地域について説明した次の  中の  A  ,  B  にあてはまるものの組み合わせとして最も適するものを、あとの 1~4 の中から一つ選び、その番号を書きなさい。

日本は、 A  の地域から多くの石油を輸入している。また、その地域が最も多く属する気候帯は  B  である。

1. A : 南アジア      B : 熱帯      2. A : 南アジア      B : 乾燥帯  
 3. A : 西アジア      B : 熱帯      4. A : 西アジア      B : 乾燥帯

(9) Kさんは、地球儀上の本初子午線の長さにテープを切り、20等分した目盛りをつけた。このテープを使い、地球儀上で、北極点とカナダの首都であるオタワの最短距離をはかったところ、約5目盛り分の長さであった。このことから、オタワの緯度はおよそ何度と考えられるか。最も適するものを、次の1~4の中から一つ選び、その番号を書きなさい。



1. 北緯 65 度      2. 北緯 55 度      3. 北緯 45 度      4. 北緯 35 度

(10) 右の略地図は、東京からの距離と方位が正しくあらわされているものである。略地図中の東京から真東に進んだとき、最初にたどりつく大陸はどこか。その大陸の名称として最も適するものを、次の1~4の中から一つ選び、その番号を書きなさい。

略地図



1. 北アメリカ大陸  
 2. 南アメリカ大陸  
 3. ユーラシア大陸  
 4. オーストラリア大陸